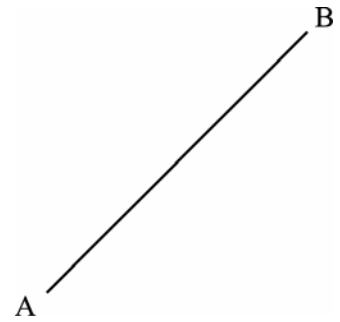
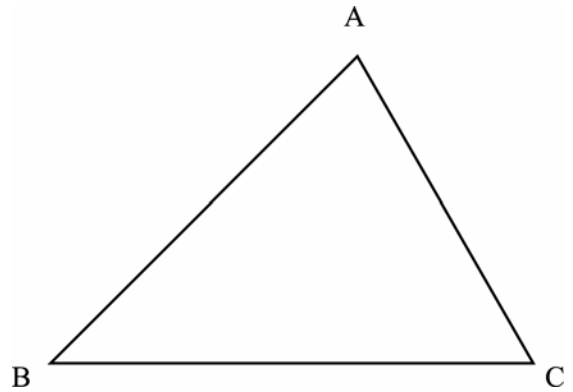


1 右の線分 AB の垂直二等分線を作図しなさい。



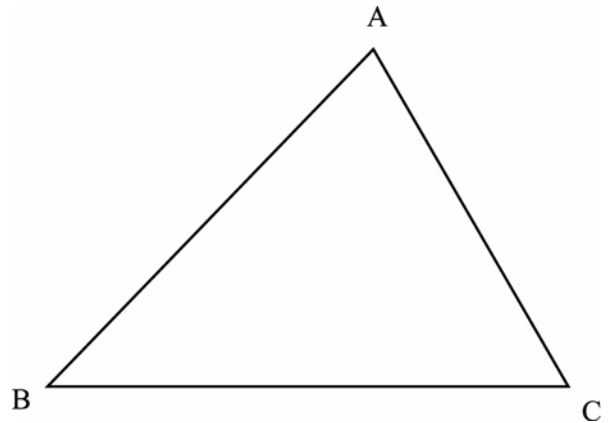
2 右の図の△ABC について、次の問いに答えなさい。

(1) 辺 BC の垂直二等分線を作図しなさい。

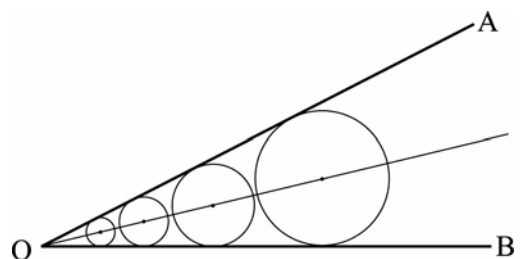


(2) ∠ACB の二等分線を作図しなさい。

3 右の△ABC で、辺 BC 上にあつて、2 点 A, B から等しい距離にある点 P を作図して求めなさい。

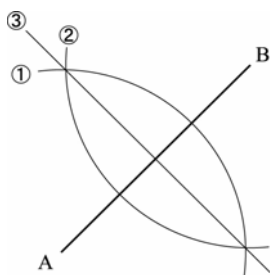


4 右の図のように、∠AOB の辺 OA, OB に接する円の中心はどのような線上にあるか。

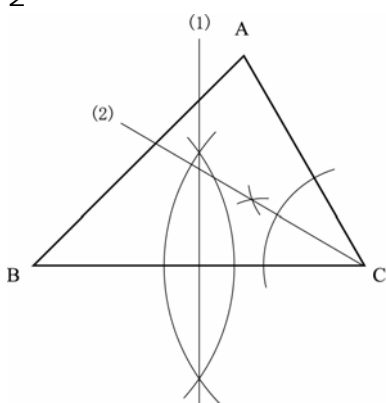


【解答】

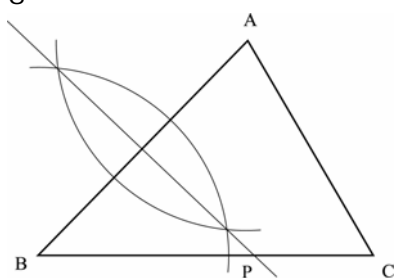
1



2



3



4 AOB の二等分線上