

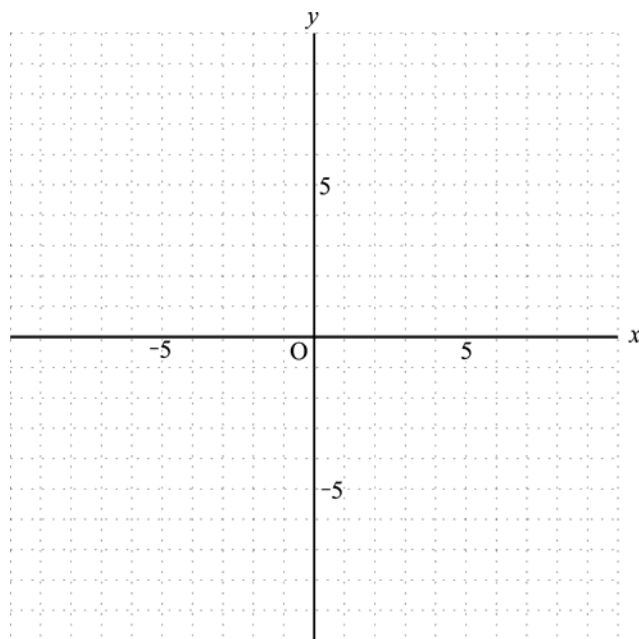
1 次の一次関数のグラフをかきなさい。

ア  $y = -x + 2$

イ  $y = 4x - 2$

ウ  $y = \frac{1}{2}x - 5$

エ  $y = -\frac{1}{3}x + 6$



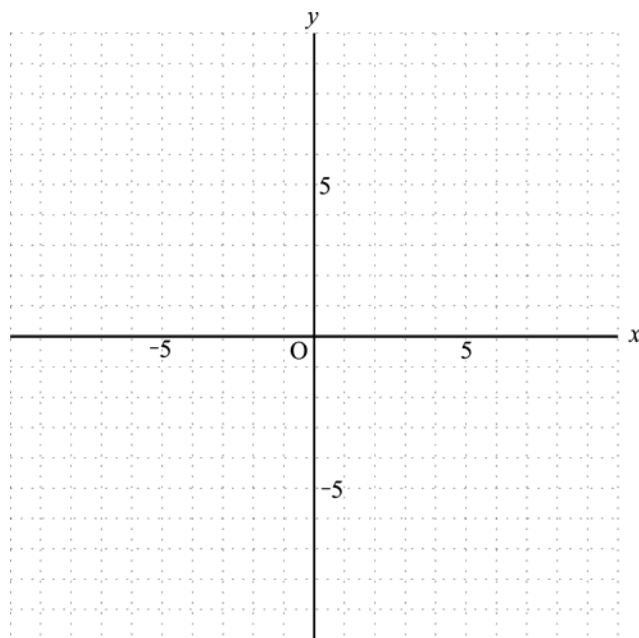
2 次の一次関数のグラフをかきなさい。

オ  $y = -3x + 3$

カ  $y = -\frac{2}{3}x + 4$

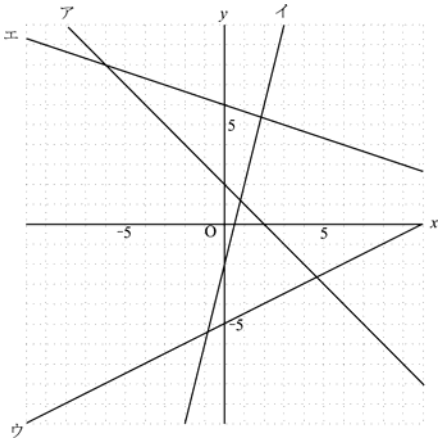
キ  $y = \frac{1}{2}x + 1$

ク  $y = \frac{4}{5}x - 6$



【解答】

1



2

